



Klimkováček

č. 2

ČASOPIS ŽÁKŮ ZŠ KLIMKOVICE

ŠKOLNÍ ROK 2022/2023



Barbora Galejová, Rozárka Richterová, Amálie Foltová, Petr Urban,
Justýna Kejdová, 5.A




Milí žáci, učitelé a čtenáři našeho časopisu,




na začátku druhého pololetí právě vyšlo druhé číslo našeho školního časopisu Klimkováček. Časopis je opět plný zajímavostí ze školního života. Co přesně tam tedy najdete? Informace ze školních akcí, nechybí tradiční rubriky a samozřejmě příspěvky jednotlivých tříd. Opět na Vás čekají příběhy, básničky, zajímavé články a mnoho krásných obrázků. Nechybí ani zábavné úkoly, doplňovačky, přesmyčky, kvízy a křížovky. Nově se dočtete i o aktivitách ve čtenářském klubu. Přejeme příjemné čtení a skvělou zábavu!

Obsah:

Úvod	1
Zprávičky z naší školičky	2
Vesmírný Klimkováček 5.B	3
Zima a zimní radovánky ve 2.A	4
Písmenkové tvoření 1.A a 1.B	5
Písmenkové tvoření 1.A a 1.B.....	6
Oblovka ve 4.A	7
Sport nás baví s 5.A	8
Karneval ve 2.B	9
Eskymáci v 3.B	10
Masopust s 3.C	11
Svatý Valentýn ve 3.A	12
Putování po ČR se 4.B.....	13



Štěpán Matečný, 5.A




Sofie Ujfaluši a Viki Hašková, 4.B

Zprávičky ze čtenářského kroužku

Ve čtenářském kroužku si čteme a bavíme se o různých knížkách. Hrajeme hry a řešíme jazykové úlohy. Jednu hodinu nám paní učitelka přinesla knížky Harryho Pottera. Četli jsme si v prvním díle Kámen mudrců. Pak jsme si každý vytáhli tablety a na nich pracovali. Na stránce wizardingworld.com si každý vytvořil svou postavu. Dále jsme si dělali test a moudrý klobouk nás potom rozdělil do kolejí - Nebelvír, Mrzimor, Havraspár a Zmijozel. Stejnou metodou jsme dostali svou hůlku a patrona. Patron je zvíře, které chrání svého kouzelníka. Téma Harryho Pottera jsme si moc užili.



Klára Buglová, 4.A



Míša Kračmarová, 4.A

Harry Potter spojovačka.

Nebelvír	Draco Malfoy	Pomona Prýtová	Filius Kratiknot
Havraspár	Harry Potter	Lenka Láskorádová	Severus Snape
Mrzimor	Cedric Diggory	Minerva McGonagallová	
Zmijozel			

ZPRÁVIČKY Z NAŠÍ ŠKOLIČKY

Lapbook v přírodovědě

Žáci pátých tříd pracovali na tématu Člověk a vesmír v podobě tvorby lapbooku. Ve skupinách prozkoumávali vesmír, planety, ale také působení člověka při objevování vzdálených světů. Lapbooky žáků jsou k vidění ve vestibulu školy.



Projekt „Putování po České republice“

Žáci 4. B se celé první pololetí věnovali České republice. V posledním lednovém týdnu jsme si učivo zopakovali v rámci učiva o krajích České republiky. Žáci pracovali s výukovým programem, o daném kraji si připravili referát, který pak následně prezentovali před ostatními. V matematice a českém jazyce pracovali ve skupinách, vyplňovali pracovní listy a na závěr si vše zopakovali hravou formou na velké kobercové mapě ČR, kde přiřazovali řeky, pohoří, města a kraje.

Projektový den v 5. A

V pondělí 30. 1. děti z 5. A třídy nasedly do pomyslného stroje času a vydaly se na cestu do minulosti. Už název našeho projektového dne napovídá, že cesta vedla hned několika stoletími. Celé pololetí jsme se věnovali vybraným kapitolám z dějin české země. Hry a soutěže, práce v týmech nad různými úkoly nám pomohly si mnoho informací připomenout, utřídit.



Úspěch našich žáků v soutěži „Každý JOB má svou hvězdu“



Soutěž byla určena pro žáky základních a středních škol v Moravskoslezském kraji a jejich úkolem bylo ve spolupráci s pedagogy, případně rodiči, natočit krátká informativní videa, ve kterých stručně a kreativně představí vybranou profesi. Bratři Míša a Kryštof Zuberovi z 5. B do soutěže poslali tři videa a jedno z nich s názvem Popeláři bylo úspěšné! Projekt nám umožnil nahlédnout pod pokličku myšlenek nastupující generace, jejich vnímání nejen světa práce, ale i práce s informacemi, které byly zaměřeny na výběr budoucího povolání a rozvoje ICT dovedností.

Vítězné video můžete zhlédnout zde: <https://youtu.be/2y-CHN6G6vk>

Matematická olympiáda 5. ročníku

Ve školním roce 2022/2023 se vybraní žáci 5. tříd zúčastnili 72. ročníku Matematické olympiády. Školní kolo proběhlo v listopadu a prosinci. Podmínkou k postupu do okresního kola bylo vyřešení alespoň 4 příkladů z 6 zadaných úloh. Úspěšní řešitelé školního kola byli nakonec tři Barbora Galejová z 5. A, Amálie Foltová z 5. A, Vojtěch Unucka z 5. A. Okresní kolo se konalo 25. 1. 2023 v Ostravě. V tomto kole museli žáci samostatně vyřešit 3 velmi náročné úkoly a prokázat své matematické dovednosti. Ze 49 soutěžících bylo 22 úspěšných řešitelů. Mezi nimi se na pěkném 13. místě umístila Amálie Foltová z 5. A třídy, na 21. místě Vojtěch Unucka z 5. A třídy. Všem zúčastněným děkujeme za reprezentaci školy a úspěšným řešitelům blahopřejeme.

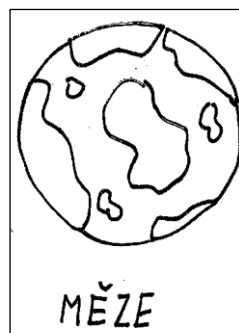


VESMÍRNÝ KLIMKOVÁČEK 5.B

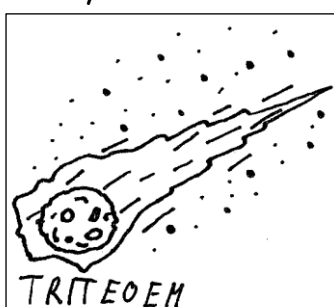
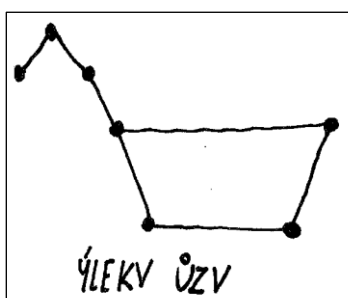
Pokud správně odpovíš na otázky, vyjde ti téma naší stránky, kterým je

Jirka Konečný, Filda Kotlář, Maty Bzonek


	ANO	NE
Je Slunce hvězda?	V	G
Má Saturn prstenec?	E	O
Je Země placatá?	J	S
Je Uran nejbližší ke Slunci?	E	M
Existuje život pouze na planetě Zemi?	Í	A
Je kometa tvořena ze železa a kamení?	T	R



Dokážeš rozluštit všechny rébusy?



Ella Hubáčková, Sára Demková



Pokud dokážeš v osmisměrce najít všechny pojmy, vyjde ti tajenka:

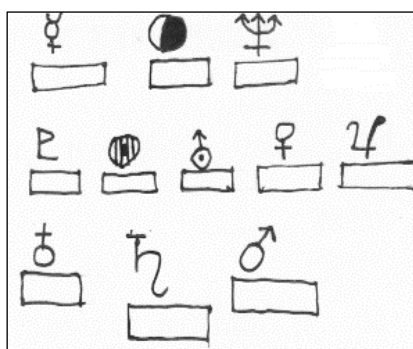
Tyto planety a hvězda tvoří _____.

J	S	S	L	U	N	C	E
V	U	M	L	Z	U	N	E
E	Č	P	E	M	A	R	S
N	N	M	I	R	Í	S	A
U	Ě	U	O	T	K	U	T
Š	S	T	R	A	E	U	U
E	V	U	A	A	R	R	
N	U	T	P	E	N	N	

MERKUR, VENUŠE, ZEMĚ, MARS,
JUPITER, SATURN, URAN, NEPTUN,
SLUNCE

Kuba Hradský, Sebík Školoudík

Dokážeš k symbolům přiřadit správné pojmy?



Jirka Janásek
Kryša Zuber

Pokus se v kódovacím čtverci najít a

dekódovat ukryté pojmy dle vzoru:

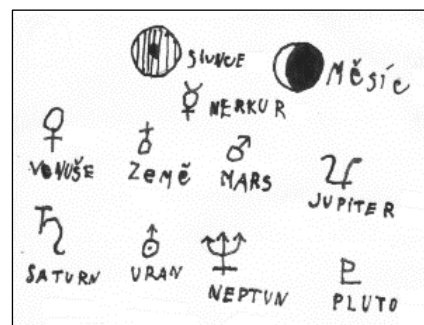
55 15 33 15 = ZEME.

Pozor! Nepoužívej háčky a čárky.

	1	2	3	4	5
1	A	B	C	D	E
2	F	G	H	I	J
3	K	L	M	N	O
4	P	Q	R	S	T
5	U	V	X	Y	Z


Honza Nakata
Filda Mahrík
Miki Vomočil

- 1) 13 15 43 34 11 14 24 43 11
- 2) 33 15 45 15 35 43 24 45
- 3) 33 32 15 13 34 11 14 43 11 23 11
- 4) 23 52 15 55 14 11
- 5) 22 11 32 11 53 24 15
- 6) 31 35 33 15 45 11




1) ČERNÁ DIRA, 2) METEORIT, 3) MLEČNÁ DRAHA,
4) HVĚZDA, 5) GALAXIE, 6) KOMETA

ZIMA A ZIMNÍ RADOVÁNKY VE 2.A



Vanda Martiníková




Jana Homolová



Valentýnka Tvrdá


Přesmyčky od Vali a Janičky:



IMZA _____
 OVLYČK _____
 ÁVONEC _____
 TSOMR _____
 HÍNS _____
 ĚHSNUÁLK _____

Klárka, Bea, Míša

Co na obrázku chybí?




Berenika Hašková

Michalka Ivanová

Rýmovánky naší Adrianky:

Paní Zimo, paní Zimo,
 kdepak máme Sportissimo?
 Je hned venku za rohem,
 co tam koupíš, to si vem!





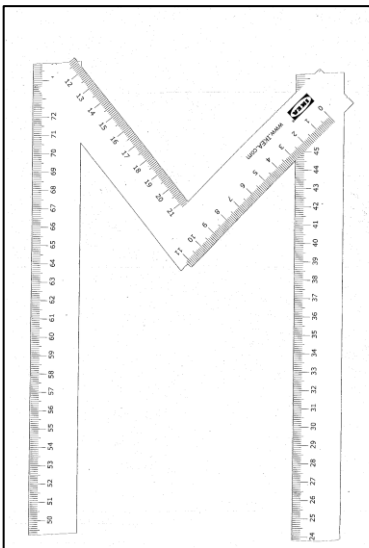


Do školky a do školy,
 budeme psát úkoly.
 Matika a čeština,
 to je naše rodina.


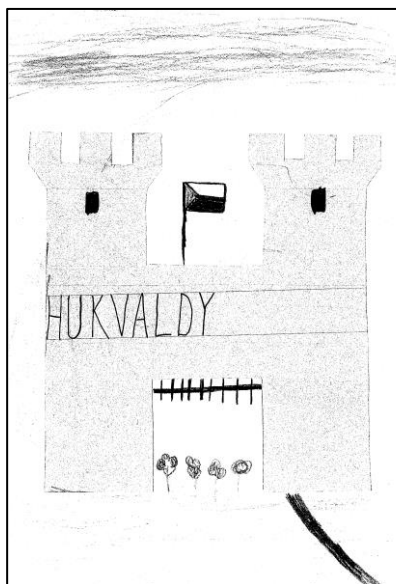




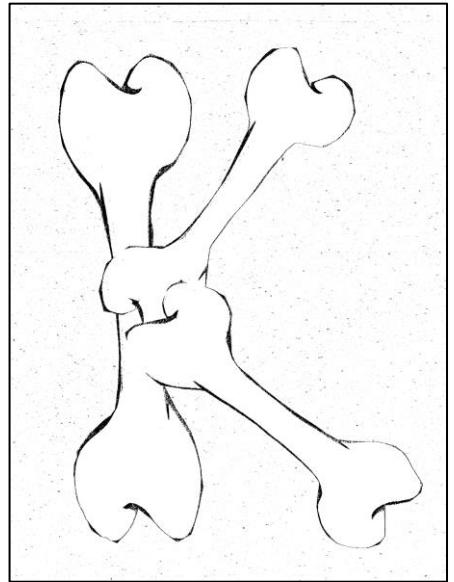
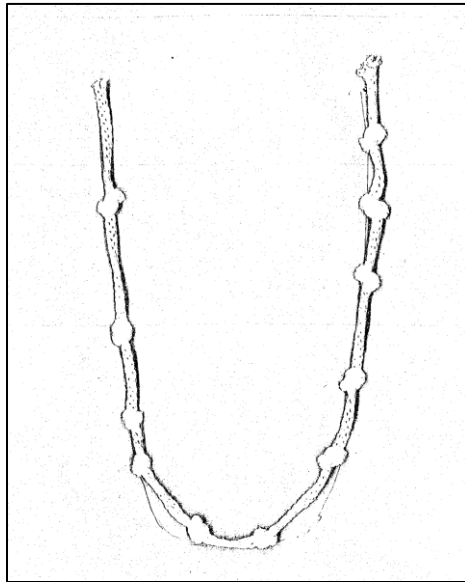
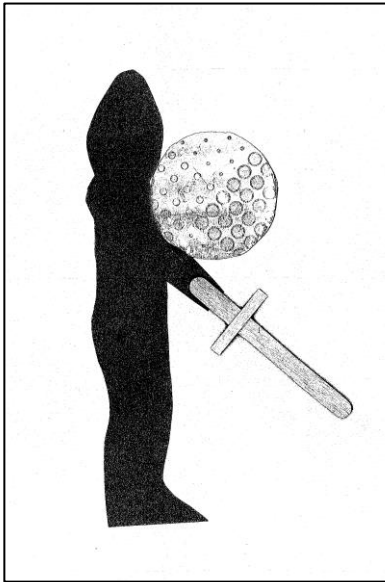


Neznámý autor přeje všem úspěšný rok 2023.

V PRVNÍCH TŘÍDÁCH PÍSMENKA NEJEN ČTEME A PÍŠEME, ALE TAKÉ JE TVOŘÍME

Poznáte, jaká slova jsme použili na ztvárnění písmen?





Řešení: zebra, ovečka, snih, metr, eso, látka, noviny, pejssek a kočička, písek, rytiř, uzly, kosti, duha, ještěrka, yetti, indianka, hrad, tričko

ACHATINA NEBOLI OBLOVKA VE 4.A

Achatina? Že vám to nic neříká? To se vám nedivím, vždyť to je latinsky. Naše třída 4.A vás s tímto seznámí. Achatina je název pro hlemýždě, pro oblovku žravou. A jak to víme? Máme takové dva šneky ve třídě. Jmenují se Hugo a Gregory. Jsou obrovští, měří 20 centimetrů. Jejich váha je kolem 150 až 300 gramů. Ulity mají pruhované v barvách hnědé a žluté. Dožívají se 5 až 20 let, v zajetí až 23 let. Jejich přirozenou potravou jsou různé plody přezrálého ovoce. Pochází totiž původně z Afriky. V domácím chovu podáváme jablka, banány, hrušky, salát, mrkev nebo třeba okurku. Krmíme je každý den. Hlavně salátové okurky jim moc chutnají. Oblovky mají rády vlhko, proto je každý den rosíme vodou. Nesmí chybět sépiová kost, která je důležitá pro jejich ulity.

Oblovkový KVÍZ:

1. Jakou mají ulitu?
 - a) Puntíkatou
 - b) Pruhovanou
 - c) Strakatou
2. Odkud původně pochází?
 - a) Z Ameriky
 - b) Z České republiky
 - c) Z Afiky
3. Jak se jmenují naši šneci?
 - a) Gregory a Hugo
 - b) Fred a Ron
 - c) Eliška a Gabča
4. Kolika let se mohou dožít v zajetí?
 - a) 20 let
 - b) 23 let
 - c) 5 let

Dokážeš vyřešit přesmyčky?


ŽÝŇMELH _____

TILAU _____

TALADYK _____

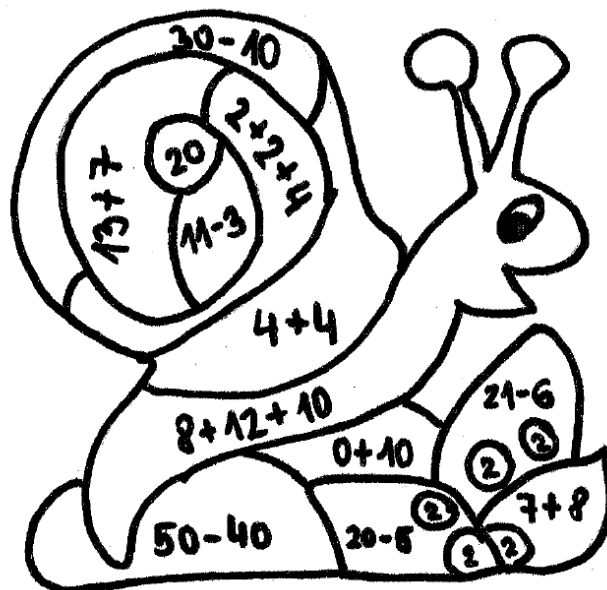
KIRAFKA _____


CEVOO _____



Vybarvi si podle zadání.

hnědá - 8, žlutá - 20, béžová - 30,
zelená - 15, šedá - 10, červená - 2






SPORT NÁS BAVÍ 5.A

Vyhledej názvy sportů:

A	L	A	B	R	O	L	F	S	B
B	K	Š	E	R	M	Y	K	F	A
L	O	I	A	Z	Y	Ž	L	Š	D
E	Á	P	T	J	Ř	O	H	A	M
Ř	N	K	L	S	G	V	Ě	CH	I
T	E	Y	E	V	A	Á	B	Y	N
S	Z	F	T	T	E	N	I	S	T
U	Á	S	I	CH	R	Í	M	Š	O
G	H	O	K	E	J	W	A	Y	N
A	C	L	A	B	T	O	F	I	G



Gymnastika, šachy,
atletika, šerm, tenis,
hokej, házená, fotbal,


lyžování, běh,
šipky, badminton,
florbal, golf, střelba.

Křížovka:

1. Jaký sport dělá Adam Ondra?
2. Tvrdý sport s míčem.
3. Nejznámější sport.
4. Plážový sport s míčem.
5. Stolní tenis.
6. Sport s raketou a míčkem.
7. Sport na ledu.

Tvrzení	ANO	NE
Je hokej zimní sport?	f	m
Je Lionel Messi tenista?	r	o
Je basketbal hra s pukem?	t	i
Je Ester Ledecká biatlonistka?	u	b
Je pin-pong míčová hra?	a	e
Je Cristiano Ronaldo lyžař?	d	l

TAJENKA: Nejznámější český běžec je Emil _____.





TVRZENÍ	ANO	NE
Zima u nás začíná 21. prosince.	L	B
Vůbec se nemusíme v zimě teple oblékat.	R	Y
Z oblohy se sype v zimě sníh.	Ž	U
Ježci v zimě spí.	O	S
V zimě se rádi venku koupeme.	L	V
Když je hodně sněhu, stavíme sněhuláky.	Á	E
Voda v zimě zamrzá.	N	V
V létě rádi sáňkujeme a bobujeme.	K	Í
Máme rádi zimní sporty.	☺	☹

Stánku připravili:

Barborka Galejová, Natálka

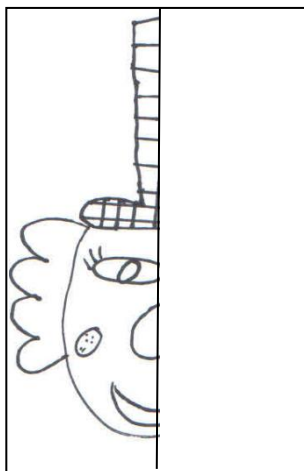
Bérešová, Ivan Filip, Adam Foltýn, Vojta Unucka, Amálka Foltová, Jakub Veverka





KARNEVAL VE 2.B

Období masopustu jsme si v naší třídě zpestřili projektem s karnevalovou tematikou. Čekal nás den plný čtení, počítání, luštění, hádanek, přemýšlení, kreslení i vyrábění a to vše propojené tématem maškarního karnevalu. Pojd'te si to zkusit s námi. Zde jsou některé z našich úkolů.

Dokresli klauna podle osy.



Najdi 6 rozdílů.

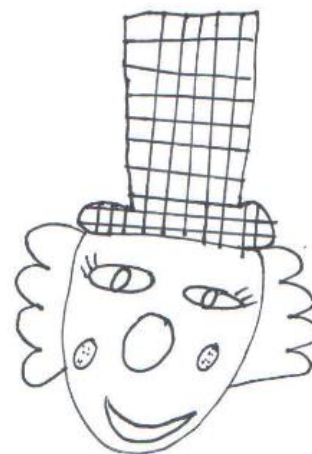


Jak je to? Vybarvi správně míčky a přijd' si do 2.B pro odměnu. Čekáme na tebe!

Klaun žongluje s míčky červeným, žlutým, zeleným, modrým a oranžovým. Vybarvi míčky ve správném pořadí, když víš, že v tuto chvíli zelený míček je nejvíce vpravo, žlutý je uprostřed, modrý není první a není vedle zeleného, červený má dva sousedy.

Vyškrtej v osmisměrce všechny karnevalové masky: MEDVĚD, PIRÁT, ŠAŠEK, ČERT, VOJÁK, PRINC, RYTÍŘ, KLAUN

U	S	V	Ř	Í	T	Y	R	A	V
J	P	D	Ě	V	D	E	M	B	X
H	U	R	Y	B	Á	Ř	K	V	J
R	K	H	P	O	G	H	V	Š	E
É	J	Ě	D	O	L	Z	A	K	K
T	Y	K	T	G	A	Š	U	L	Z
N	Č	Á	I	Á	E	X	A	Z	C
O	E	J	T	K	R	U	Y	F	A
M	R	O	H	T	N	I	E	U	H
Z	T	V	C	X	E	C	P	J	U



ESKYMÁCI V 3.B

Chceš se něco dozvědět o ESKYMÁCÍCH? Doplň do textu vhodná slova z nabídky a čti.



Eskymáci jsou lidé, kteří žijí na severu _____, v severní části Ameriky, kde je velká zima, _____ a sníh. Dříve bydleli ve stanech z kůže nebo v _____, což je obydlí z ledových kostek. Aby jim bylo nejtepleji, oblékali se do _____. Vymysleli mnoho věcí, které jim usnadňovaly život např. _____, což je malá a úzká loďka. K přepravě využívali psí _____.

Kromě syrového masa z _____, sobů, ryb a velryb jedli zvířecí vnitřnosti a krev. Dnes se přepravují na motorových _____ nebo skútrech. Bydlí v domech s elektřinou. Eskymáci mají jednu zvláštnost, místo **podáním ruky se zdraví tak, že si třou o sebe nosy**. To proto, aby si v takové zimě nemuseli sundávat _____.

Nabídka slov: spřežení, iglú, zeměkoule, rukavice, tuleňů, kajak, led, člunech, kožešin



Víš, co znamená, když Eskymák řekne slovo **NANUK**?

Není to mražená pochoutka na dřevěném držátku.

Je to zvíře. (obrázek ti napoví)



Přesmyčky

JAKAK _____

MKSKÁYE _____

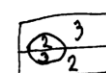
LIGÚ _____

UETŇL _____

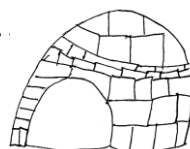
DEVĚDM _____



Vlajka Grónska
- také zde žijí Eskymáci

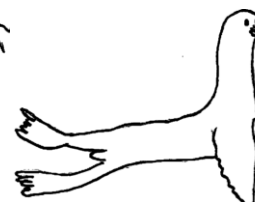
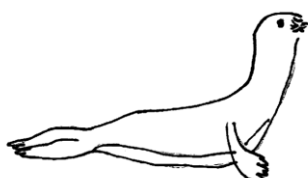


1. brown, 2. red, 3. white



Kdo je kdo?

TULEŇ x LACHTAN



Nohy jsou srostlé a trvale směřují dozadu.

Nemají ušní boltce, ale ušní otvory.

Mají problémy s pohybem na souši.

Mají zadní nohy rostlé do stran.

Mají výrazná ouška.

Obratně se pohybují po souši.



MASOPUST je období plné zábavy, tance, hudby, plesů a kostýmů.



MASOPUST začíná po příchodu Třech králů 6. ledna a končí den před Popeleční středou - letos v úterý 21.2.



Poslední den MASOPUSTU se koná průvod masek doprovázený živou kapelou tzv. dechovkou.




Lidé se oblékají do různých masek, typická maska pro průvod je medvěd a dále záleží na fantazii každého účastníka.



Průvod je zakončený pochováním basy a začíná období půstu.



Kráva dává...						
Synonymum slova KLAUN						
Druh sovy						
Oranžové tropické ovoce						
Pracovní nástroj dřevorubce						
Samec slepice						
Dravý pták, má uprostřed oko						L
Nákupní...						



Minikvíz

1. Kdy začíná masopust?

- Po Třech králich
- Na Vánoce
- Před Velikonocemi

PŘESMYČKY:

UASMOPTS _____
AMRAKŠA _____

2. Kdy nejčastěji probíhá masopustní průvod?

- Na začátku masopustu
- Den před Popeleční středou
- Den po Popeleční středě

PŘESMYČKY:

MOSTKÝ _____
EVDMDĚ _____

3. Jaká je typická maska masopustního průvodu?

- Lev
- Pes
- Medvěd

ŘEŠENÍ:
KŘÍŽOVKA: MASOPUST
PŘESMYČKY: MASOPUST, MAŠKARA,
KOSTYM, MEDVĚD
MINIKVÍZ: 1.a, 2.b, 3.c, 4.b


4. Čím je zakončený masopustní průvod?

- Hrou na basy
- Pochováním basy
- Vyhozením basy do řeky




Tuto stránku připravili žáci třídy 3.C.

SVATÝ VALENTÝN VE 3.A



Mia Kovařčíková 3.A

PATRON
VŠECH
ZAMILOVANÝCH



Nika Přikrylová 3.A

Čtyřsměrka: Valentýn, láska, růže, srdce, překvapení, dárek, bonboniéra, svátek, červená, růžová, květiny, bílá, rande, medvídek, únor, holka, líbá

S	V	Á	T	E	K	N	B	P	S	O
R	Á	N	E	V	R	E	Č	Ř	Y	K
Ů	L	S	R	D	C	E	H	E	N	K
Ž	B	U	Ů	Á	B	Í	L	K	I	E
O	R	O	Ž	P	H	L	O	V	T	D
V	A	L	E	N	T	Ý	N	A	Ě	Í
D	K	O	V	I	C	S	A	L	V	N
Á	N	Á	L	Í	B	Í	L	P	V	V
R	D	S	K	P	D	Á	R	E	K	D
O	E	K	E	H	L	N	V	N	A	E
N	S	A	K	L	O	H	A	Í	J	M
Ú	B	O	N	B	O	N	I	É	R	A



Adrianka Černá, Alička Korábečná, Sofi Pröll 3.A

Mia Kovařčíková 3.A

Přesmyčky:

ŘÁÍNP _____

ICKYTE _____

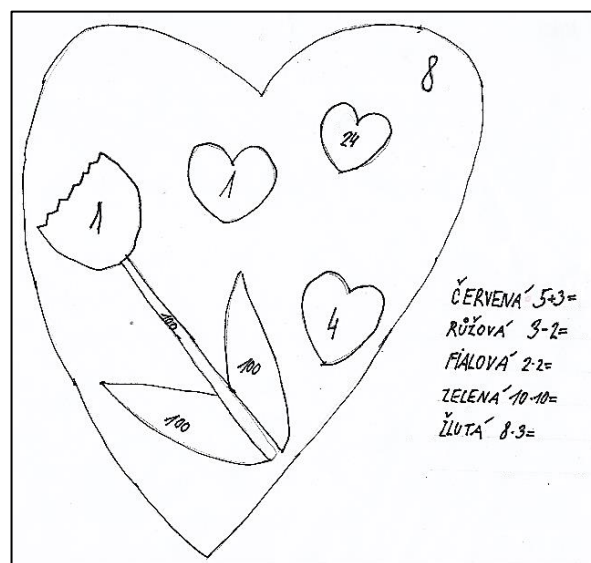
ULJEIM _____

AARIKAOMNT _____

USPA _____

IÁČEKIML _____

LIBEKPO _____



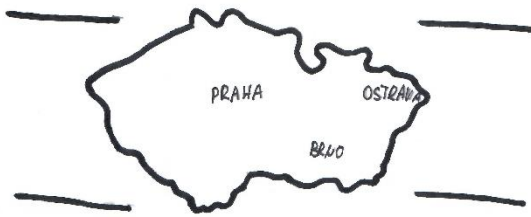
Míša Vavříčková, Lenička Riess, Helenka Porubová 3.A

Kiki Kováčová 3.A

PUTOVÁNÍ PO ČESKÉ REPUBLICE SE 4.B

Dopište sousední země České republiky:

Vypočítej příklady a vylušti tajenku:



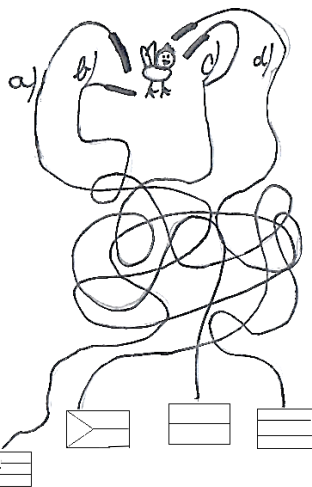
20	5	14	6	15	30	9	25	36	12	48	40
E	K	P	U	S	R	Á	Č	L	B	A	I

$5 \cdot 5 =$	$15 + 15 =$	$6 \cdot 6 =$
$8 + 12 =$	$4 \cdot 5 =$	$5 \cdot 8 =$
$30 - 15 =$	$7 \cdot 2 =$	$3 + 2 =$
$50 : 10 =$	$3 \cdot 2 =$	$6 \cdot 8 =$
$18 : 2 =$	$4 \cdot 3 =$	

Viki Langrová

Čáp Robert už odlétá z teplých krajin. Která cesta vede do ČR?

- cesta a)
- cesta b)
- cesta c)
- cesta d)



Nikol Sedláčková



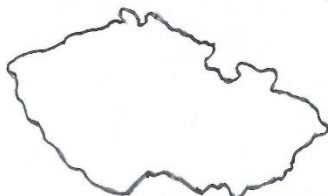
Přesmyčky:

MAAVŠU _____
 NĚŠŽAK _____
 KRKŠOENO _____
 RAAHP _____
 NROB _____
 EJSEÍNYK _____



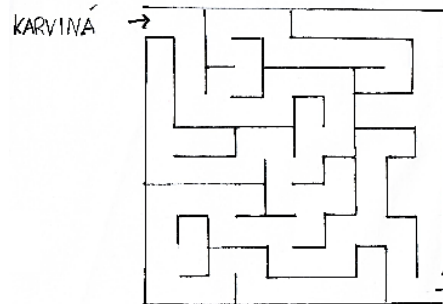
Rózi Žáková

Vyznač, kde je Moravskoslezský kraj:



Vendula Russová

Bludiště:



Adélka Nováková



Spoj krajské město s názvem kraje:

- | | |
|----------------------|---------|
| Kraj Vysočina | Ostrava |
| Liberecký kraj | Liberec |
| Zlínský kraj | Praha |
| Moravskoslezský kraj | Liberec |
| Středočeský kraj | Zlín |

Sofi Ujfalusi

Kvíz:

- Kolik krajů má ČR?
 a) 13 b) 14 c) 15
- Kolik zemí sousdí s ČR?
 a) 4 b) 5 c) 3
- Hlavní město ČR:
 a) Brno b) Ostrava c) Praha

Křížovka:

			1.			CH	
2.	R		Ž				
3.			R			E	
			4.			A	
			5.				R
6.	S						K
7.		K					

- Historické země - ... Morava a Slezsko.
- Největší rybník v ČR.
- Hrad, který nechal postavit Karel IV.
- Nejdelší česká řeka.
- Krajské město Libereckého kraje.
- Sousední stát ČR.
- Česká značka aut.

Dimitri Kanurkov